



COMANDO DA AERONÁUTICA
DEPARTAMENTO DE ENSINO DA AERONÁUTICA
ESCOLA DE ESPECIALISTAS DE AERONÁUTICA

CÓDIGO DA
PROVA
26

EXAME DE ESCOLARIDADE E DE CONHECIMENTOS ESPECIALIZADOS DO EXAME DE

SELECÇÃO AO CURSO DE FORMAÇÃO DE TAIFEIROS – 2010 – MODALIDADE "A"

ESPECIALIDADE: ARRUMADOR (TAR)

PROVAS DE: LÍNGUA PORTUGUESA – MATEMÁTICA – ARRUMADOR

Gabarito Oficial

AS QUESTÕES DE 01 A 20 REFEREM-SE À LÍNGUA PORTUGUESA

Como um país envelhece

O envelhecimento populacional é um fenômeno mundial, característico das sociedades mais ricas. Segundo o modelo de transição demográfica, montado para analisar o fenômeno, cedo ou tarde as nações chegam a um ponto em que o número de idosos se iguala ou até supera o de jovens e crianças. Quando isso ocorre depende do desenvolvimento econômico e industrial de cada país.

O modelo explica que, na era pré-industrial, as taxas de natalidade e mortalidade eram muito altas, com a de natalidade superando levemente a de mortalidade. Nasceram muitos, mas também morriam muitos, devido à fome, às guerras, às epidemias e ao pouco desenvolvimento da medicina. Nessas sociedades, as pessoas morriam antes de envelhecer. Assim, as crianças e os jovens permaneciam a maioria na pirâmide populacional.

Na fase seguinte, a taxa de mortalidade cai, devido a avanços na tecnologia e na medicina e à melhoria das condições sanitárias. As pessoas vivem mais e aumenta o número de idosos. Com a taxa de mortalidade em queda e a de natalidade em alta, o crescimento demográfico ocorre em todas as faixas etárias. É o caso dos países pobres da África.

Uma sociedade atinge a terceira fase da transição demográfica quando começa a adotar políticas de controle da natalidade. No geral, isso coincide com o ingresso da mulher no mercado de trabalho, o acesso à informação e a urbanização. A taxa de natalidade cai, mas ainda cresce o número de idosos. É o caso de países da Ásia e da América Latina — entre eles o Brasil.

Por fim, a quarta fase começa quando as taxas de natalidade e mortalidade voltam a se equilibrar, num patamar bem baixo: nasce pouca gente, a maioria das crianças sobrevive, mas, por mais que avance, a medicina não consegue impedir que os idosos morram. A população volta a crescer lentamente. É o que ocorre nos países desenvolvidos da Europa e da América do Norte.

Os teóricos em demografia afirmam que o mundo já vive uma quinta fase, em que a taxa de mortalidade supera a de natalidade, provocando uma redução da população. Isso já acontece na Itália e na Alemanha, em que o alto custo para manter uma criança faz com que os casais optem por, no máximo, um filho. A pirâmide começa a se inverter.

Atualidades Vestibular – 1º sem. 2008

As questões de 01 a 04 referem-se ao texto ao lado.

01 – Qual das informações abaixo é correta, de acordo com o texto?

- a) O número de idosos é sempre elevado em qualquer transição, independente da oscilação das taxas de natalidade e de mortalidade.
- b) Não havia idosos na era pré-industrial, já que as taxas de natalidade superavam as de mortalidade, o que significa que as pessoas morriam antes de envelhecer.
- c) O ingresso da mulher no mercado de trabalho, o acesso à informação e a urbanização, na terceira fase de transição demográfica, são alguns dos fatores responsáveis pela queda da taxa de natalidade.
- d) **A análise do fenômeno mundial do envelhecimento populacional está diretamente relacionada ao desenvolvimento econômico e industrial de cada país, o qual determina as fases de transição demográfica.**

02 – Considerando as idéias apresentadas no texto, marque a alternativa com a relação **incorreta** entre causa (s) social (is) e a variação das taxas de natalidade/mortalidade da população.

- a) Fome; guerras; epidemias = alta taxa de mortalidade.
- b) Melhoria das condições sanitárias = queda na taxa de mortalidade.
- c) **Pouco desenvolvimento da medicina = queda na taxa de mortalidade.**
- d) Adoção de políticas de controle da natalidade = queda na taxa de natalidade.

03 – Relacionando o segundo e o quinto parágrafos do texto, é correto afirmar que, em ambos, o autor

- a) demonstra que na segunda e quarta fases de transição demográfica há um equilíbrio total entre as taxas de mortalidade e natalidade.
- b) apresenta um tom persuasivo ao descrever as fases. Predomina, nos parágrafos, mesmo que implicitamente, uma crítica aos profissionais da área médica.
- c) esclarece que, embora diferentes, a segunda e a quarta fases da transição demográfica apresentam a mesma situação, ou seja, as pessoas morrendo cedo, antes mesmo de envelhecer. A taxa de natalidade supera a de mortalidade.
- d) **revela uma diferença pontual entre a segunda e quarta fases: nesta os idosos morrem apesar do avanço da medicina; naquela, muitas pessoas não envelhecem, entre outras causas, devido ao pouco desenvolvimento da área do conhecimento médico.**

04 – De acordo com o texto, é correto dizer, com relação às transições demográficas, que

- a) elas demarcam um ciclo de desenvolvimento econômico e industrial que segue uma direção linear no tempo, de modo que não são concomitantes, ou seja, há necessariamente uma relação de anterioridade e posterioridade entre as fases.
- b) elas caracterizam a situação econômica e industrial em que cada país se encontra, de forma que um país pode se encontrar na terceira fase da transição demográfica numa determinada época e outro, na mesma época, estar na quarta, por exemplo.**
- c) elas seguem uma linha de alternância; por exemplo: enquanto numa fase a taxa de natalidade supera a de mortalidade, na fase seguinte essa situação se inverte. Daí o nome “transição demográfica”.
- d) elas configuram uma estimativa com base em dados estritamente teóricos; são, na verdade, cálculos estatísticos que levam em consideração realidades econômicas hipotéticas a fim de se fazer uma projeção demográfica dos países.

05 – Marque a alternativa cuja seqüência completa corretamente a frase abaixo com discurso indireto para reproduzir a fala do professor.

Indagado sobre o resultado da prova, o professor respondeu à ansiosa jovem _____.

- a) isso: “Acalme-se, pois você é uma excelente aluna.”
- b) que se acalmasse, pois você é uma excelente aluna.
- c) que se acalmasse, pois ela era uma excelente aluna.**
- d) o seguinte: “Acalme-se!, pois ela era uma excelente aluna.”

06 – Observe as manchetes:

- I- Brasília prepara-se para receber o eminente cientista norte-americano.
- II- Aluno foi punido por infringir as regras da boa conduta escolar.
- III- Deputado envolvido em escândalos terá seu mandato cassado.
- IV- Vultosa quantia de dinheiro foi encontrada numa lata de lixo no centro de São Paulo.

Em qual das frases acima há uso **incorreto** de uma palavra parônima?

- a) I
- b) II**
- c) III
- d) IV

07 – Leia as seguintes frases:

- I- A peça teatral estava tão ruim que a platéia usou ovos e tomates como **projétil**.
- II- Poucos estão preparados para subir o **degrau** da fama.
- III- Os que se destacaram durante o ano geralmente são premiados com **troféu**.

Assinale a alternativa em que o plural dos substantivos destacados acima está correto.

- a) projéteis – degrais – troféus
- b) projetis – degrais – trofêis
- c) projetis – degraus – troféus**
- d) projéteis – degraus – trofêis

08 – Leia:

“Cigarra”

“Diamante.Vidraça.
Arisca, áspera asa risca
[...] E brilha. E passa.”

Assinale a alternativa com a afirmação correta sobre a tonicidade das palavras do poema.

- a) A maior parte das palavras que compõem o texto são paroxítonas.**
- b) Não são paroxítonas as palavras **diamante** e **cigarra**.
- c) A conjunção **e** é um monossílabo tônico.
- d) **Asa** é uma oxítônica terminada em **a**.

09 – Leia:

Ana era a moça mais bela do povoado. Carlos considerava Ana perfeita e, como estivesse apaixonado, elegeu Ana a mulher de sua vida.

Considerando a norma culta, assinale a alternativa com a seqüência de pronomes que substituem devida e respectivamente as palavras destacadas.

- a) lhe, lhe
- b) ela, a
- c) a, ela
- d) a, a**

10 – Em qual das alternativas abaixo o advérbio em destaque classifica-se como advérbio de tempo?

- a) Ela **rapidamente** se mudou, sem ao menos dar uma explicação.
- b) **Possivelmente** trocariam algumas palavras sobre assuntos do trabalho.
- c) Aquele setor da fábrica brevemente** contará com um novo chefe.
- d) A professora **facilmente** se faz entender pelos alunos.

11 – Apenas uma das formas verbais em destaque nas alternativas flexiona-se em dois tempos diferentes com a mesma desinência com que se apresenta abaixo. Identifique-a e marque a alternativa que a contém.

- a) As testemunhas relataram** todos os detalhes ao júri.
- b) Talvez eles **viajem** logo após as festas de fim de ano.
- c) Não me **importaria** com a sua saúde se ela não fosse tão frágil.
- d) Somente **obtemos** bons resultados nos exames quando de fato nos empenhamos ao máximo.

12 – Marque a alternativa em que a pontuação está correta.

- a) “Darás sempre início ao novo, pois os humanos embora devam morrer, não nascem para morrer, mas para recomeçar.”
- b) “Só desejarás a justa medida das riquezas: primeiro, o necessário; segundo, o suficiente.”**
- c) “Não te torturarás, com o passado e com o futuro para não sofreres em vão.”
- d) “Não forjarás ideais contrários, à vida e à alegria de viver.”

13 – Nas orações abaixo, os predicados estão destacados. Compare-os e, em seguida, assinale a alternativa com a seqüência que apresenta correta e respectivamente a classificação desses termos essenciais.

- I- **Por causa da chuva**, muitas pessoas **corriam**.
II- **Por causa da chuva**, muitas pessoas **pareciam assustadas**.
III- **Por causa da chuva**, muitas pessoas **corriam assustadas**.

- a) I- verbal; II- nominal; III- verbo-nominal
b) I- nominal; II- verbo-nominal; III- verbal
c) I- verbo-nominal; II- verbal; III- nominal
d) I- verbal; II- nominal; III- verbal

14 – Leia o trecho a seguir:

“A felicidade é reencontrarmos em nós **a capacidade** para amar (...).”

O termo em destaque acima classifica-se como

- a) sujeito.
b) **objeto direto**.
c) objeto indireto.
d) complemento nominal.

15 – Observe:

- I- Cheguei **à escola** ao fim da tarde.
II- O marido entrou **pé ante pé** em casa.
III- **Todas as manhãs**, ele saía atrasado.
IV- Sinto-me melhor **no verão**.

Os termos destacados são adjuntos adverbiais que indicam, respectivamente, circunstâncias de

- a) tempo, lugar, modo, tempo.
b) **lugar, modo, tempo, tempo**.
c) lugar, finalidade, modo, causa.
d) tempo, instrumento, tempo, modo.

16 – Em todas as orações, o termo destacado está classificado corretamente entre os parênteses, **exceto** em:

- a) Devemos preservar os valores tradicionais da família, **célula da sociedade**. (aposto)
b) Participação crítica, **cidadãos**, é o que falta a nosso país. (vocativo)
c) **A vida, ó meu amado**, é uma dádiva divina. (aposto)
d) **Luciana**, que trajas são esses? (vocativo)

17 – Assinale a alternativa em que há oração subordinada substantiva.

- a) Meu amigo ainda não sabe quando ganhou na loteria.
b) Meu amigo ainda não sabe, mas ganhou na loteria.
c) Meu amigo que ganhou na loteria ainda não sabe.
d) **Meu amigo ainda não sabe se ganhou na loteria**.

18 – Em qual das alternativas a concordância verbal destacada, de acordo com a “norma culta”, é **inaceitável**?

- a) **Havia** poucos alunos na sala.
b) **Souu** doze horas quando ele acordou.
c) Os Estados Unidos **possuem** uma população de muitos obesos.
d) **Chovem** reclamações no gabinete do prefeito sobre o novo projeto aprovado pelos vereadores.

19 – Todas as palavras em destaque abaixo regem a preposição “a”, **exceto**:

- a) Um livre pensador deve **obediência** apenas ____ sua consciência.
b) **Todos os seres humanos, por mais inteligentes que sejam, são passíveis** ____ erros.
c) Sou sempre **favorável** ____ liberdade de expressão, ainda que para isso tenha de ir preso.
d) Assim como um dedo da mão não é **idêntico** ____ outro, os filhos também são diferentes uns dos outros.

20 – Todas as alternativas abaixo apresentam casos facultativos de crase, **exceto**:

- a) Um admirador secreto enviou flores à Helena.
b) Fez referências elogiosas à sua velha amiga de escola.
c) Agora vou até às últimas conseqüências para deslindar esse mistério.
d) **Era impressionante como aquele dublê dançava à Michael Jackson**.

Rascunho



**AS QUESTÕES DE 21 A 40 REFEREM-SE
À MATEMÁTICA**

Rascunho



21 – O número de pratos $E(x)$ no estoque de um restaurante, em função do número x de dias que ele funcionou desde a sua inauguração, é dado pela expressão $E(x) = 300 - 4x$. Após 15 dias de funcionamento, o número de pratos no estoque do restaurante será

- a) 210.
- b) 220.
- c) 230.
- d) 240.

22 – Se a reta $r: y = ax + b$ é perpendicular à reta $s: y = 2x - 3$, então o valor de a é

- a) $-1/4$.
- b) $-1/2$.
- c) -1 .
- d) -3 .

23 – O volume de um sólido S equivale ao volume de três esferas de raio $r = 5$ cm. O volume de S , em cm^3 , é

- a) 200π .
- b) 300π .
- c) 500π .
- d) 700π .

24 – Uma escola tem 150 alunas. Se, em uma pesquisa, 70 delas foram entrevistadas, o número de alunas dessa escola que não fizeram parte da amostra dessa pesquisa é

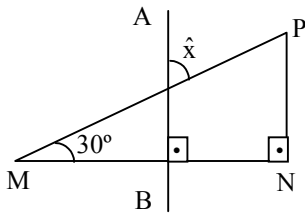
- a) 80.
- b) 60.
- c) 40.
- d) 20.

25 – O cardápio de uma pizzaria oferece 10 diferentes recheios. Para um cliente escolher 4 recheios diferentes, sem importar a ordem, o número de possibilidades é

- a) 320.
- b) 210.
- c) 180.
- d) 160.

26 – O segmento de reta \overline{AB} é perpendicular a \overline{MN} , lado do triângulo retângulo MNP. O valor do seno do ângulo \hat{x} é

- a) $\frac{1}{2}$.
- b) $\frac{\sqrt{3}}{2}$.
- c) $\frac{\sqrt{2}}{2}$.
- d) $\frac{\sqrt{3}}{3}$.



27 – Numa concessionária, o carro Alpha é vendido pelo triplo do preço da moto Delta. Sabendo-se que a soma dos preços de ambos é R\$ 40.000, pode-se concluir que o carro Alpha é R\$ _____ mais caro do que a moto Delta.

- a) 20.000
- b) 15.000
- c) 10.000
- d) 5.000

28 – Se $\sin x = \frac{1}{2}$ e $\cos x > 0$, então $\sqrt{3} \cos x$ é igual a

- a) $\frac{3}{5}$.
- b) $\frac{2}{5}$.
- c) $\frac{2}{3}$.
- d) $\frac{3}{2}$.

29 – A área, em cm^2 , de um triângulo equilátero cujo lado mede $2\sqrt{3}$ cm, é

- a) $2\sqrt{3}$.
- b) $3\sqrt{3}$.
- c) $4\sqrt{3}$.
- d) $5\sqrt{3}$.

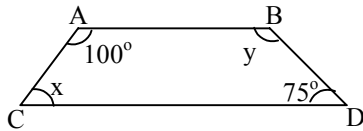
30 – Considere os pontos A(1,2), B(3,4) e C(5,0), vértices de um triângulo. Esse triângulo tem _____ unidades de área.

- a) 6
- b) 5
- c) 4
- d) 3

Rascunho



31 – Considere a figura a seguir:



Para que \overline{AB} e \overline{CD} sejam as bases de um trapézio, x e y devem ser respectivamente iguais a

- a) 90° e 85° .
- b) 110° e 70° .
- c) 80° e 105° .
- d) 70° e 111° .

32 – O comprimento, em cm, de uma circunferência cuja área vale $25\pi \text{ cm}^2$, é de

- a) π .
- b) 5.
- c) 5π .
- d) 10π .

33 – Seja \overline{AB} o segmento que une os pontos $A(-5, 4)$ e $B(1, 2)$.

A soma das coordenadas do ponto médio de \overline{AB} é

- a) 1.
- b) 2.
- c) 3.
- d) 4.

34 – O volume de um cone cuja altura mede 9 cm e cujo raio da base mede 4 cm, em cm^3 , é

- a) 36π .
- b) 42π .
- c) 48π .
- d) 56π .

35 – Sejam $A = \cos\left(\frac{\pi}{2} - \alpha\right)$ e $B = \cos(\pi - \alpha)$. Pode-se afirmar que, para qualquer valor de α , A e B são, respectivamente, iguais a

- a) $-\text{sen } \alpha$ e $-\text{cos } \alpha$.
- b) $-\text{sen } \alpha$ e $\text{cos } \alpha$.
- c) $\text{sen } \alpha$ e $-\text{cos } \alpha$.
- d) $\text{sen } \alpha$ e $\text{cos } \alpha$.

36 – Sabendo que 2 canetas e 3 cadernos custam R\$ 10,00 e que cada caneta custa R\$ 0,50, pode-se deduzir que o preço de 2 cadernos, em reais, é

- a) 4,00.
- b) 5,60.
- c) 6,00.
- d) 7,40.

Rascunho



37 – Se b é um número real e o módulo do número complexo $z = 3 + bi$ é 5, a soma dos possíveis valores de b é

- a) -1 .
- b) **0** .
- c) 1 .
- d) 2 .

38 – Sabendo que dois termos consecutivos, a_n e a_{n+1} , de uma progressão aritmética coincidem, pode-se concluir que

- a) esta progressão aritmética é crescente.
- b) esta progressão aritmética é decrescente.
- c) o primeiro termo desta progressão aritmética é zero.
- d) **esta progressão aritmética é uma seqüência constante.**

39 – Um reservatório de água tem formato cúbico de aresta igual a 4 m, e contém água até a metade de sua altura. O volume de água, em m^3 , que tem no reservatório é

- a) 36.
- b) 34.
- c) **32**.
- d) 30.

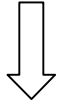
40 – O número de anagramas da palavra PERMUTA é

- a) **$7!$** .
- b) $8!$.
- c) $9!$.
- d) $10!$.

Rascunho



Rascunho



AS QUESTÕES DE 41 A 80 REFEREM-SE À ESPECIALIDADE DE ARRUMADOR

41 – Assinale a alternativa que completa corretamente a lacuna do texto abaixo.

“O garçom deve conhecer os diversos tipos de serviço em _____, desde a preparação das mesas e buffets até o serviço propriamente dito das comidas e bebidas”.

- a) *réchaud*
- b) *coffe-break*
- c) *cocktails e drinks*
- d) *banquetes e cocktails*

42 – Assinale a afirmativa correta.

- a) *As peças componentes dos uniformes de garçons e garçonetes devem ser confeccionadas com tecidos de boa qualidade, padronizadas quanto a cor, modelo e tecido, e apresentar-se constantemente higienizadas.*
- b) O garçom deve usar adereços, como anéis, pulseiras, correntes, colares, entre outros para melhorar sua apresentação pessoal.
- c) Os sapatos do garçom não precisam ser confortáveis, já que ele passa a maior parte do tempo de pé.
- d) Os profissionais que trabalham no serviço de alimentos e bebidas devem usar perfumes no horário de trabalho.

43 – No que tange à higiene no trabalho, relacione a coluna da direita com a da esquerda e, em seguida, assinale a alternativa que contém a sequência correta.

- | | | |
|---------------------------------|-----|---|
| 1- Higiene Pessoal | () | Estar sempre com o uniforme limpo. |
| 2- Higiene do Vestuário | () | Manter tudo no devido lugar. |
| 3- Higiene no Local de Trabalho | () | Tomar banho diariamente ou sempre que necessário. |
| | () | Cobrir todo e qualquer ferimento. |
| | () | Manter os cabelos curtos ou presos em coque, no caso de mulheres. |
| | () | Usar roupas passadas. |
| | () | Ter cuidado com panos de limpeza. |
-
- a) 2, 3, 1, 2, 1, 1, 2
 - b) *2, 3, 1, 1, 1, 2, 3*
 - c) 2, 1, 1, 3, 2, 2, 3
 - d) 3, 2, 2, 1, 2, 1, 3

44 – Assinale a alternativa **incorreta**.

- a) Deve-se lavar os cabelos todos os dias ou em dias alternados, conforme o tipo de cabelo, com xampu apropriado, massageando o couro cabeludo com as pontas dos dedos.
- b) Ao enxugar os pés, é preciso dar uma boa atenção à parte que fica entre os dedos, pois nesse local costuma alojar-se uma espécie de fungo que causa a frieira.
- c) Deve-se passar a roupa, pois o calor do ferro de passar esteriliza as roupas, além de garantir uma boa aparência.
- d) *O garçom deve sair de casa uniformizado para que, ao chegar ao local de trabalho, não perca tempo ao se arrumar.*

45 – Considerando os comportamentos propiciadores de um bom relacionamento no trabalho, marque “V” para as assertivas verdadeiras e “F” para as falsas, em seguida, assinale a alternativa que apresenta a seqüência correta.

- () Deve-se respeitar o próximo como ser humano.
 - () Deve-se interromper aquele que está falando para não haver perda de tempo.
 - () Deve-se estar sempre aborrecido e mal-humorado.
 - () Deve-se evitar quebra de hierarquia, reportando-se sempre ao superior imediato.
-
- a) F, V, V, F
 - b) V, V, F, F
 - c) V, F, V, V
 - d) *V, F, F, V*

46 – Dentre os materiais, classificados como “equipamentos”, de uso mais constante nos restaurantes, podemos citar:

- a) mesas auxiliares – também chamadas de guéridons
- b) *chaffing dish (réchaud ou banho-maria)*
- c) carrinho / *réchaud* para flambagem
- d) *sous-plats*

47 – Dentre os materiais, classificados como “utensílios”, de uso mais constante nos restaurantes, podemos citar:

- a) *caquelon* (panela para fondue)
- b) *talheres de aço inox ou prata*
- c) cafeteira portátil
- d) toalhas redondas

48 – Na preparação do restaurante para atendimento aos clientes a atividade de “ligação de aparelhos de ar-condicionado, ventiladores e de música ambiente” é de execução habitual dos

- a) *commis.*
- b) *garçons.*
- c) *maitres.*
- d) *gerentes.*

49 – Assinale a alternativa que melhor caracteriza um Piano bar.

- a) Bar clássico, onde a atuação do *barman* é a principal atração.
- b) *Bar clássico, requintado e luxuoso, geralmente localizado em hotéis de primeira categoria, onde a principal atração é a música de piano e o pianista.*
- c) Bar para solteiros e solteiras, onde o principal objetivo é a paquera.
- d) Casa especializada em shows, música ao vivo, dança e paquera.

50 – Como exemplo de *Bitters*, tem-se:

- a) *Underberg nacional e importado*
- b) *Cognac*
- c) *Tequila*
- d) *Arak*

51 – Como exemplo de licor, tem-se:

- a) *Champagne*
- b) Martini
- c) *Glavyva*
- d) Cidra

52 – Leia as assertivas abaixo:

- I- A venda do evento resume-se a uma competência técnica em termos de discurso.
- II- Um dos cuidados básicos é jamais deixar o cliente esperando.
- III- Simpatia é um quesito que deve acompanhar o gabarito técnico durante toda a apresentação das modalidades de serviço.

Está (ão) correta (s) apenas:

- a) I
- b) III
- c) I e II
- d) **II e III**

53 – Marque a alternativa que melhor completa a lacuna do texto abaixo:

“O _____ é, obviamente, uma das principais chaves para o sucesso do evento. Depende não apenas do ajuste do serviço ao programado, mas também da sintonia entre a estrutura operacional, os profissionais envolvidos e as informações colhidas no momento da ‘encomenda’ do evento.”

- a) transporte para conferencistas e autoridades
- b) registro do número total de participantes
- c) **planejamento equilibrado**
- d) melhor rendimento

54 – Marque a alternativa que completa corretamente a lacuna do texto abaixo:

“Da montagem da cozinha ao controle do estoque, é importante zelar pela excelência dos seguintes pontos-chave: _____, seleção do fornecedor e entrega e armazenamento das mercadorias.”

- a) preço dos produtos
- b) registro do número total de participantes
- c) transporte para conferencistas e autoridades
- d) **quantidade, tipo e qualidade dos produtos a serem comprados.**

55 – Dentre as regras básicas que garantem a higiene da cozinha, marque a afirmativa **incorreta**.

- a) dedetizar periodicamente todo o setor.
- b) acondicionar rapidamente os alimentos perecíveis em câmaras frigoríficas.
- c) **limpar os equipamentos de cozinha após o término do dia.**
- d) usar sempre uniforme completo, não esquecendo do chapéu.

56 – Marque a alternativa que completa corretamente a lacuna do texto abaixo.

“As reuniões ou jornadas de trabalho e também _____ podem ser classificados como promoções do grupo de eventos de negócios ou estudos.”

- a) banquetes
- b) *coffe-break*
- c) **congressos e seminários**
- d) serviços de alimentos e bebidas

57 – Marque a alternativa que melhor completa a lacuna do texto abaixo:

“Para o _____, os menus mais usuais incluem opções básicas como café, chá, leite, água mineral, *petit fours*.”

- a) coquetel
- b) banquete
- c) jantar
- d) ***coffe-break***

58 – “Utilizada com mais frequência em debates. Algumas vezes também é usada para banquetes. Nestes casos, é comum que se coloque no centro, no nível do tampo das mesas, uma decoração floral”.

O texto acima refere-se a:

- a) organização em “U”
- b) montagem em círculo
- c) **organização quadrangular**
- d) montagem em auditório ou teatro

59 – “É uma palavra do idioma francês que, na terminologia hoteleira, significa arrumação e preparação do ambiente de trabalho antes do início do atendimento à clientela.” O texto refere-se a:

- a) *Sherry*
- b) *Cocktail*
- c) *Gin Fizz*
- d) ***Mise-en-place***

60 – O *barman* para dominar o produto, precisa conhecer com muita segurança alguns aspectos, com **exceção** de:

- a) carta do bar
- b) carta de vinhos
- c) **percentual de lucro**
- d) processos de fabricação das bebidas

61 – “É o processo de transformação dos açúcares ou da sacarificação dos amidos em álcool etílico ou etanol. É produzida por enzimas segregadas por microorganismos, bactérias ou leveduras”.

O texto acima refere-se a:

- a) **fermentação**
- b) destilação
- c) infusão
- d) fusão

62 – Marque a alternativa que completa corretamente a lacuna do texto abaixo.

“As bebidas alcoólicas feitas pelo processo de _____, também chamadas bebidas compostas, são obtidas por meio da imersão temporária de substâncias vegetais para que lhes sejam extraídas as essências”.

- a) **infusão**
- b) fermentação
- c) destilação
- d) fusão

63 – “Todo o verdadeiro *champagne* é feito por esse método.” O texto refere-se a que método?

- a) *asti*
- b) *charmat*
- c) *peverela*
- d) ***champenoise***

64 – Marque a alternativa que completa corretamente a lacuna do texto abaixo.

“A (O) _____ surgiu entre os povos eslavos e, desde o princípio, era chamada de aguazinha, uma maneira carinhosa de reverenciar a bebida que os ajudava a suportar o frio intenso”.

- a) tequila
- b) ***vodka***
- c) *whisky*
- d) *tuica*

65 – Marque a alternativa que completa corretamente a lacuna do texto abaixo.

“A (O) _____ é uma aguardente nobre de fama mundial, obtida da fermentação e destilação de diversos cereais, como cevada, milho, trigo e centeio. Todas (os) são amadurecidos em tonéis de carvalho por tempo variável (medido em anos), de acordo com o tipo de produto que se pretende obter”.

- a) tequila
- b) *vodka*
- c) *tuica*
- d) ***whisky***

66 – Qual das alternativas abaixo **não** apresenta uma das modalidades dos *cocktails*?

- a) **digestivos**
- b) batidos
- c) mexidos
- d) montados

67 – Assinale a alternativa que **não** apresenta uma das classificações dos *cocktails* quanto às “finalidades”.

- a) estimulantes físicos
- b) refrescantes
- c) **divertidos**
- d) nutritivos

68 – São considerados como os “verdadeiros” *cocktails*:

- a) *hot drinks*
- b) ***short drinks***
- c) *long drinks*
- d) *cold drinks*

69 – Marque a alternativa que completa corretamente a lacuna do texto abaixo.

“_____ são bebidas preparadas à base de *vodka* ou aguardente, como *brandy* ou *whisk*, e *contêm* ainda pedaços de frutas, açúcar, suco de limão, zelo e *curaçau*”.

- a) ~~*Gross*~~
- b) *Coolers*
- c) *Crustas*
- d) ***Cobbers***

70 – Considerando as “dicas” para se preparar um *cocktail*, analise as assertivas e marque “V” para as verdadeiras e “F” para as falsas, em seguida, assinale a alternativa que apresenta a seqüência correta.

- () É necessário ter no bar máquina de fabricação de gelo e a água do gelo deve ser filtrada.
- () Copos de boa qualidade e transparentes permitem melhor apreciação da bebida.
- () Todos os *cocktails* gelados podem ser servidos em copos gelados, operação que é feita na hora.
- () O aspecto visual não contribui para sua avaliação final.

- a) **V, V, V, F**
- b) V, F, V, F
- c) V, V, F, V
- d) F, V, V, F

71 – Que tipo de serviço valoriza mais a arte do cozinheiro?

- a) **empratado**
- b) à Francesa
- c) à Inglesa
- d) à Russa

72 – Qual das alternativas abaixo **não** apresenta corretamente uma das etapas de execução do serviço simplificado de prato pronto?

- a) Retirar os pratos da cozinha.
- b) Colocar os pratos na bandeja e transportá-los até o aparador.
- c) **Aproximar-se da mesa pelo lado esquerdo do cliente, pedir licença e colocar os pratos à sua frente.**
- d) Desejar “bom apetite”, pedir licença e retirar-se.

73 – Marque a alternativa que completa corretamente a lacuna do texto abaixo.

“Uma grande mesa é montada, com iguarias quentes e frias. Em banquetes, o serviço _____ é uma das melhores opções”.

- a) **de Bufê**
- b) à Russa
- c) à Francesa
- d) à Diplomata

74 – Assinale a alternativa que **não** apresenta um tipo de chá.

- a) *Earl Grey*
- b) *Darjeeling*
- c) *Sangarees*
- d) *Yunnam*

75 – “Processo usado para separar líquidos, a partir dos diferentes pontos de ebulição”.

O texto acima refere-se a:

- a) **Destilação**
- b) Fermentação
- c) Condensação
- d) Vaporização

76 – Qual das alternativas **não** apresenta um tipo de aguardente?

- a) Cachaça
- b) **Cerveja**
- c) Uísque
- d) Gim

77 – Levando-se em consideração a montagem e arrumação das mesas, assinale a afirmativa **incorreta**.

- a) Antes de ser levada à mesa, toda a louça deve ser revisada.
- b) Todos os copos precisam estar limpos e polidos antes de chegar à mesa.
- c) **A colocação de grãos de arroz dentro dos saleiros serve para eliminar a umidade, porém, dificulta a saída do sal.**
- d) Mesas e cadeiras devem estar impecavelmente limpas, inclusive por baixo ou em partes aparentemente longe do alcance do olhar do convidado.

78 – Assinale a alternativa que completa corretamente a lacuna do texto abaixo.

“Aos _____ cabem as tarefas de arrumar as mesas de apoio no salão, de higienização dos copos, pratos e bandejas, a montagem dos *cocktails* e salgadinhos nas bandejas e o serviço desses aos clientes”.

- a) arrumadores
- b) faxineiros
- c) *mâitres*
- d) **garçons**

79 – Assinale a alternativa que completa corretamente a lacuna do texto abaixo.

“Quando, durante a refeição, um guardanapo ou talher do cliente cai ao chão, procede-se da seguinte forma: primeiro traz-se outro limpo dentro de _____ e coloca-se _____ do cliente, para então apanhar o que caiu e levá-lo à copa”.

- a) **um prato de sobremesa/ ao lado**
- b) um prato qualquer / à frente
- c) uma bandeja / ao lado
- d) um copo/ à frente

80 – Assinale a alternativa que apresenta uma afirmativa **incorreta** sobre *réchaud*.

- a) A base é composta de recipiente de combustível, válvula de segurança, controle de chamas e tubo condutor de pavio com combustível.
- b) **Encaixada sobre a base encontra-se a frigideira, que possui recortes em todo o seu contorno, por onde a chama se espalha.**
- c) Encaixada sobre a base encontra-se a trempe, que possui recortes em todo o seu contorno, por onde a chama se espalha.
- d) A frigideira é confeccionada em aço inox para melhor conservar o calor. É utensílio utilizado para o cozimento e para a flambagem dos produtos.

Rascunho

